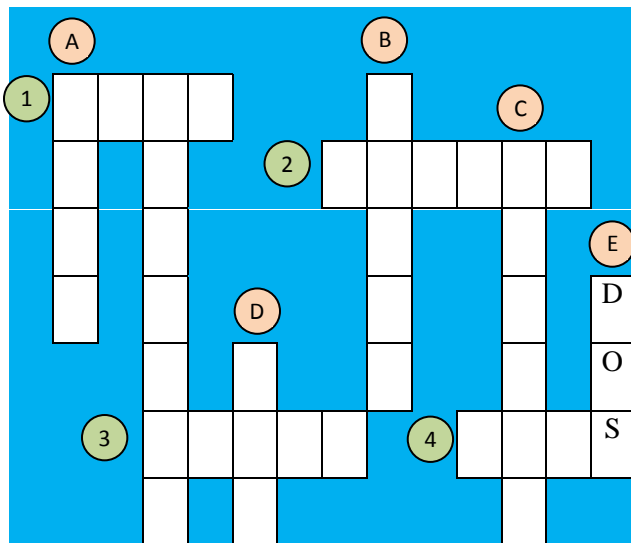




CRUCIGRAMAS



Para llenar el crucigrama escribe los números romanos en el sistema decimal. Por ejemplo la pista vertical E, corresponde al número 2, DOS.

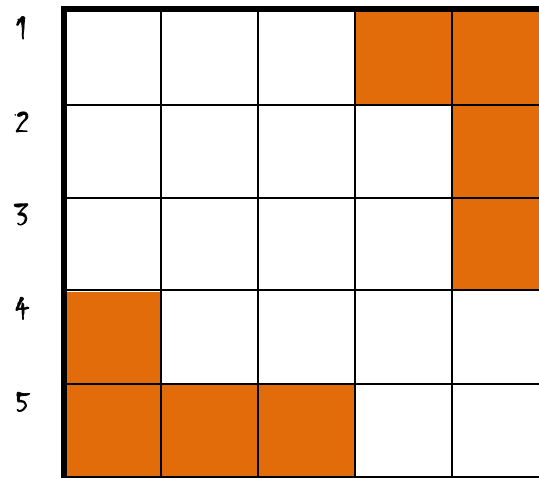
P I S T A S	
HORIZONTALES	VERTICALES
1. XII	A. X
2. XV	B. IX
3. V	C. IV
4. III	D. I
	E. II



En esta oportunidad los juegos son los **CRUCIGRAMAS**

Completa el siguiente **CRUCINUMEROGRAMA** (de restas) con base en las pistas:

A B C D E



P I S T A S

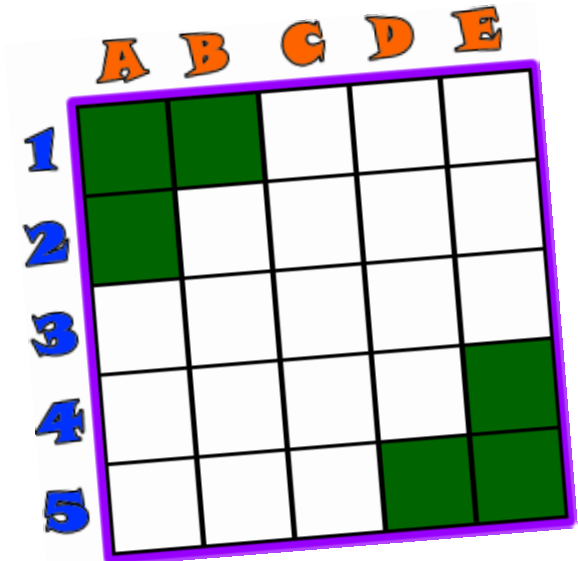
HORIZONTALES	VERTICALES
5. $822 - 526$	F. $926 - 692$
6. $8.340 - 4.535$	G. $15.425 - 5.621$
7. $13.247 - 9.158$	H. $7.456 - 1.367$
8. $9.056 - 4.073$	I. $24.832 - 18.845$
9. $700 - 629$	J. $500 - 469$

Cualquier duda pregunta a tu profe de matemática y recuerda que las pistas horizontales se escriben de izquierda a derecha y la verticales de arriba hacia abajo.



NOMBRE:

Ahora atrévete a completar este **CRUCINUMEROGRAMA**



P I S T A S

HORIZONTALES	VERTICALES
1. $325 + 428$	A. $3105 \div 9$
2. $44786 \div 7$	B. 242×25
3. 438×69	C. $85006 - 11796$
4. $54156 \div 12$	D. $88845 \div 15$
5. $5500 \div 11$	E. $1528 \div 4$



No olvides realizar las operaciones BUENA SUERTE !!!

GRADO: