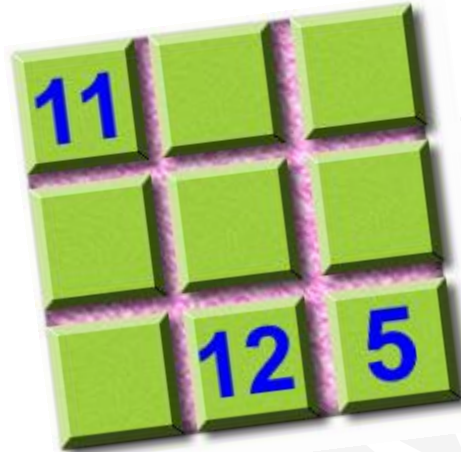




Utilizando los números del 4 al 12 de tal manera que la suma mágica sea igual a 24.



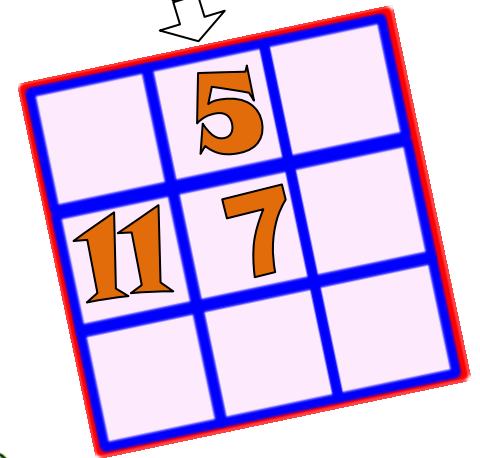
Completa el siguiente cuadrado mágico con los números que faltan



AHORA ATRÉVETE A ESCRIBIR LOS NÚMEROS QUE FALTAN EN LOS SIGUIENTES CUADRADOS MÁGICOS



SUMA MÁGICA IGUAL A 21 Y SE CONSTRUYE CON LOS NÚMEROS DEL 3 AL 11

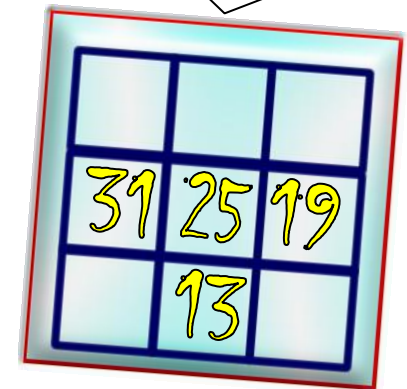
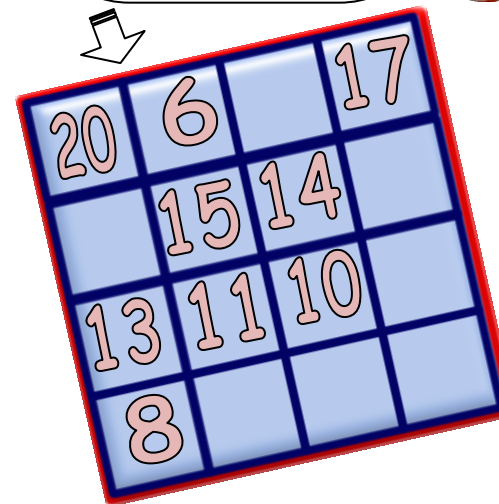


EN ESTE CUADRADO MÁGICO AVERIGUA CUÁL ES EL VALOR DE LA SUMA MÁGICA Y LUEGO COMPLETALO



Y en este cuadrado, ¿cuál es la suma mágica? y ¿cuáles números faltan?

UTILIZA SÓLO LOS NÚMEROS 16, 22, 28, 34 Y 37



CUADRADOS MÁGICOS juego que consiste en colocar los números en un cuadrado de tal forma que la suma de los números de cada fila, columna y diagonal es la misma. Observa el siguiente ejemplo:

6	7	2	→ 6+7+2 = 15
1	5	9	→ 1+5+9 = 15
8	3	4	→ 8+3+4 = 15

$6+1+8 =$
 $7+5+3 =$
 $2+9+4 =$

Además si sumas los números de las diagonales también se obtiene el mismo resultado:

$6+5+4 =$
 $8+5+2 =$

