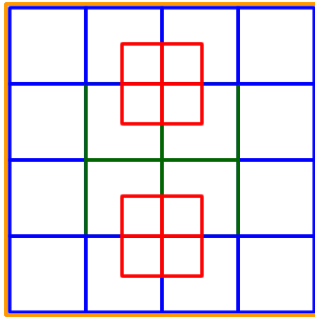


RETO MANIA

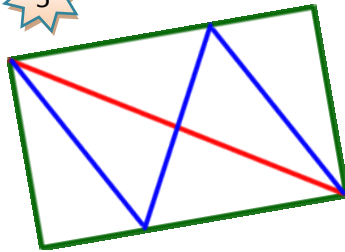
Cuál es el número total de cuadrados que tiene la figura

5

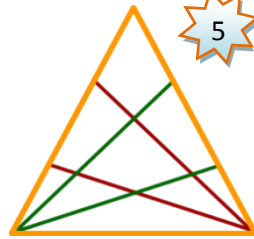


Y cuántos triángulos en total tiene cada figura

5

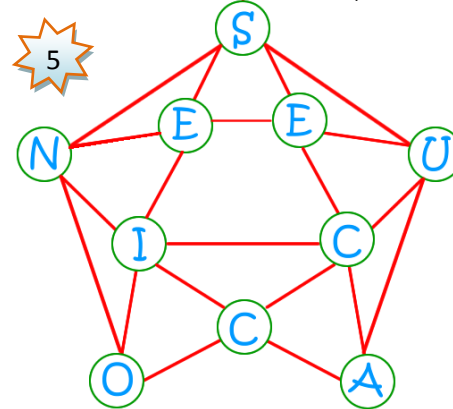


5



Encuentra la palabra escondida de 10 letras.

- * No te puedes saltar una letra para pasar a otra.
- * Las letras deben estar conectadas por las líneas



Reemplaza cada letra por un dígito de tal manera que la suma sea correcta

5 +

B	A	L	O	N
+				
B	A	L	O	N

F	U	T	B	O	L
---	---	---	---	---	---

PISTA

L, corresponde al número de sílabas de la palabra HUERTA

Atrévete a completar este sudoku 9x9 y si lo deseas puedes agregar más números claves con ayuda de las pistas que corresponde al número de sílabas de cada palabra:

10

Hola, es fácil, debo contar el número de sílabas de cada palabra y agregarlo al sudoku.

- A. Navío
- B. Ilusiones
- C. Día
- D. Cafetería
- E. Buey
- F. Poeta
- G. Ojo
- H. Soy
- I. Anillo
- J. Irreconciliblemente
- K. Calendario
- L. Instantáneamente
- M. Epigramáticamente
- N. Avestruz
- O. Puerta
- P. Enciclopedia
- Q. Oía
- R. Aéreo
- S. Cruel



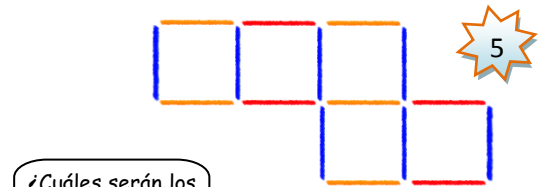
6	8		D	9	2	E	4	F
A		1	7					2
	B	C		1				
7		4	2	5		I		J
G	3		1	4	7			9
	H				6	K		L
M		6	9			P	Q	R
				3	5	2	8	S
	5	N	4	O	8		6	9

El señor Pérez tiene nueve (9) pelotas, de las cuales una (1) es un poco más pesada que las demás. Usando la balanza exactamente dos (2) veces, explica cuál es la forma para identificar la pelota más pesada?.

10



La figura está formada por 16 palillos de colores, formando una figura de 5 cuadrados, mueve exactamente dos palillos (cambia de lugar) para formar una figura con cuatro (4) cuadrados de igual tamaño. (No vale superponer un palillo sobre otro)



¿Cuáles serán los palillos que debo mover?



Haz el dibujo de la nueva figura aquí

NOMBRES Y APELLIDOS

GRADO